

Prénom :



Les p'tits marchands



J'apprends à déterminer la valeur d'une somme et à comparer des sommes.

J'apprends à constituer une somme, à simuler des achats.

J'apprends le sens de l'écriture à virgule d'une somme d'argent.

| | | | | | | | | | |
|----|----|----|----|----|----|----|---|---|----|
| 1 | 2 | 3 | 4 | 5 | 6 | 7 | 8 | 9 | 10 |
| 11 | 12 | 13 | 14 | 15 | 16 | 17 | | | |



Les échanges


$1,25 \text{ €} = 1\text{€ et } 25 \text{ centimes}$



Les p'tits marchands

1

→ **Relie** la somme d'argent et les billets.



520 €

225 €



350 €

360 €



290 €



630 €



2

→ **Trouve** la valeur de chaque ensemble puis **compare** les avec le signe < ou >.



...





Les p'tits marchands

3

→ **Complète** comme le modèle.


| 135 centimes | = 1 € et 35 centimes | = 1,35 € |
|--------------|----------------------|----------|
| 164 centimes | = | = |
| 275 centimes | = | = |
| 150 centimes | = | = |
| 105 centimes | = | = |

4

→ **Dessine** les pièces pour faire les sommes.

95 centimes

1,25 €





Les p'tits marchands

5

→ **Dessine** le moins de pièces possible pour faire les sommes.

1,59 €



4,60 €



6

→ **Dessine** la monnaie manquante pour faire les sommes.

2,99 €



5,75 €





Les p'tits marchands

7

→ **Dessine** les pièces pour faire les sommes.

Tu ne peux utiliser que des centimes d'euros.

0,55 €

1,70 €

1,95 €

2,05 €

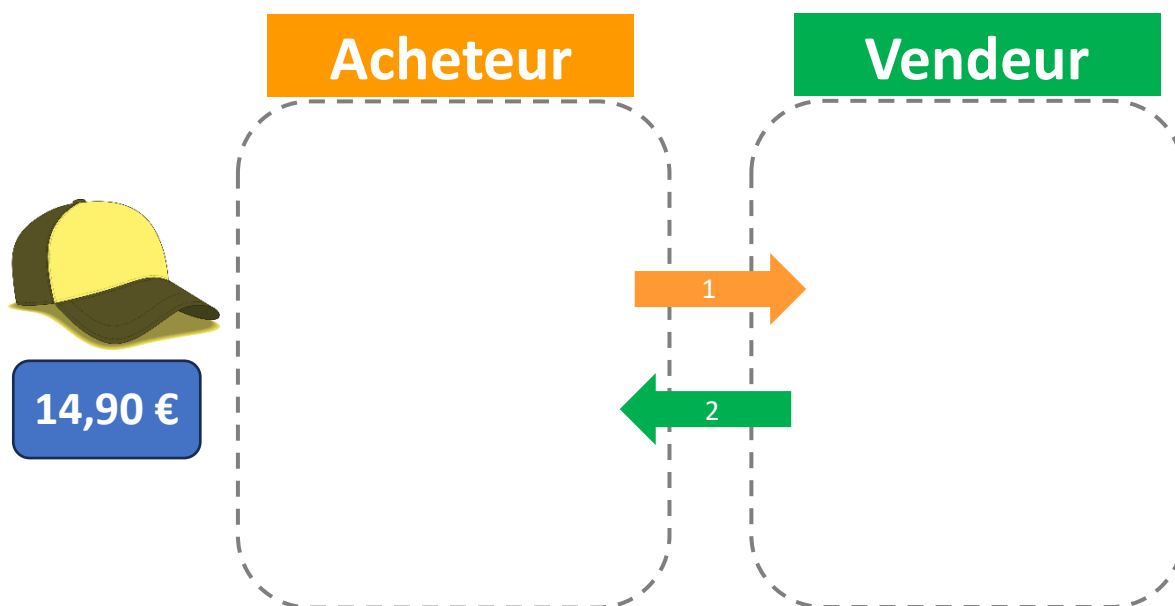
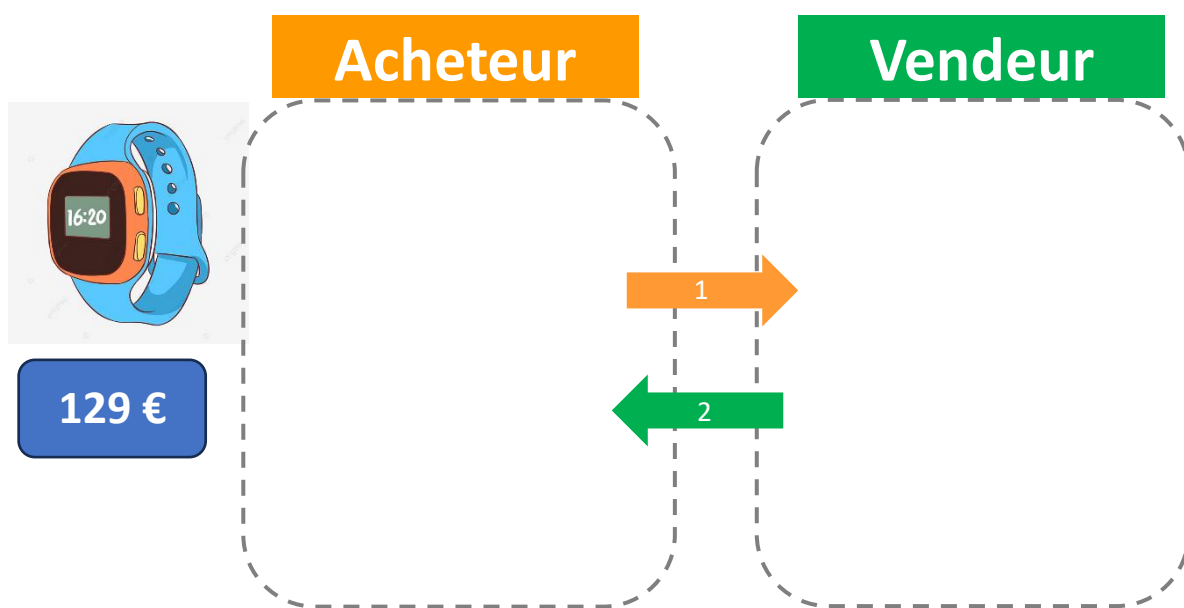


Les p'tits marchands

8

→ Dessine.

1. Pour l'acheteur la somme qu'il doit donner pour acheter l'objet. Il n'a que des billets.
2. Pour le vendeur, la monnaie qu'il doit rendre à l'acheteur. Il n'a que des pièces.





Les p'tits marchands

9

→ Dessine le moins de pièces ou de billets pour faire les sommes.

14,50 €

59,90 €


10

→ Relie les étiquettes aux pièces de monnaie.

1 € 47

82
centimes

1 € 62





Les p'tits marchands



11

→ Relie chaque somme d'argent à sa valeur.



520 €

225 €



350 €

360 €



290 €

630 €





Les p'tits marchands

12

→ **Complète** comme le modèle.

| 135 centimes | = 1 € et 35 centimes | = 1,35 € |
|--------------|----------------------|----------|
| 259 centimes | = | = |
| 385 centimes | = | = |
| 490 centimes | = | = |
| 904 centimes | = | = |

13

→ **Dessine** le moins de pièces possible pour faire les sommes.

0,29 €



8,20 €





Les p'tits marchands

14

→ Dessine.

1. Pour l'acheteur la somme qu'il doit donner pour acheter l'objet. Il n'a que des billets.
2. Pour le vendeur, la monnaie qu'il doit rendre à l'acheteur. Il n'a que des pièces.



249 €

Acheteur

Vendeur

1

2



1,79 €

Acheteur

Vendeur

1

2



Les p'tits marchands

15

→ Range ces sommes d'argent par ordre croissant.

A

1,79 €

B

2€

C

181 centimes

D

600 centimes

E

2,05 €



... < ... < ... < ... < ...

16

→ Complète avec les pièces et billets nécessaires pour avoir les sommes.

275 € 50



275 € 90





Les p'tits marchands

17

→ Dessine.

1. Pour l'acheteur la somme qu'il doit donner pour acheter l'objet. Il n'a que des billets.
2. Pour le vendeur, la monnaie qu'il doit rendre à l'acheteur. Il n'a que des pièces.

